

Name

Logic Masters 2018

Runde 7: Portal-Spezialrunde von Eva

Bearbeitungszeit: 60 Minuten

Gesamtpunktzahl: 380 Punkte

7.1	Koralle in Blöcken	5 Punkte
7.2	Koralle in Blöcken	15 Punkte
7.3	Koralle mit Außengebieten	15 Punkte
7.4	Summenbild-Rundweg	10 Punkte
7.5	Summenbild-Rundweg	50 Punkte
7.6a	Japanische-Summen-Masyu 1	15 Punkte
7.6b	Japanische-Summen-Masyu 2	20 Punkte
7.6c	Japanische-Summen-Masyu 3	60 Punkte
7.7	Japanische Koralle	40 Punkte
7.8	Japanische Koralle	50 Punkte
7.9	Rollercoaster	30 Punkte
7.10	Rollercoaster	70 Punkte

Evtl. Restzeit bei Abgabe	Evtl. Bonuspunkte	Gesamtpunkte

7.1 Koralle in Blöcken (5 Punkte)

		8	1	1	1	8	1	2	2	2	1	8	
		1	1	1	1	1	1	1	1	1	1	1	

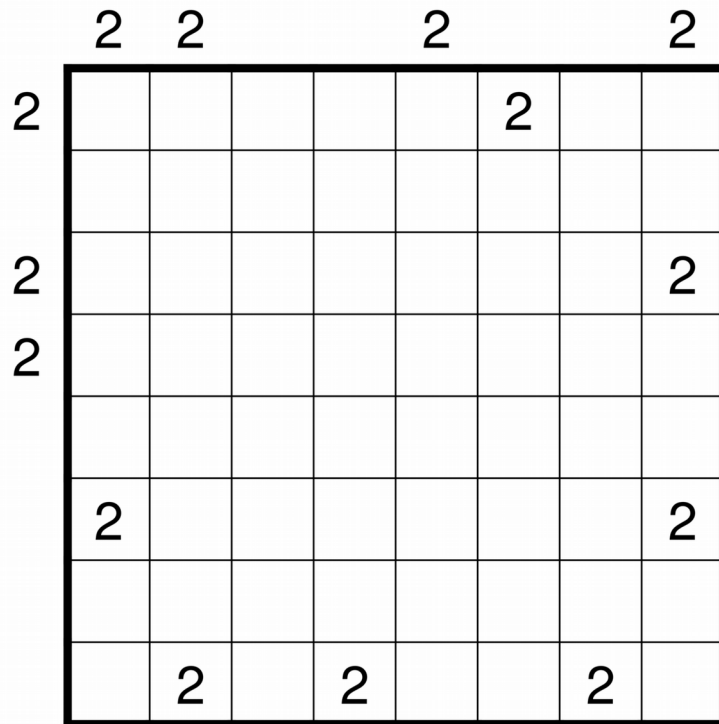
7	3												3
6	4												3
4	4												1
3	3												1
3	3												1
3	3												1
3	3												1
6	2												5
		8	1	1	1	8	1	2	2	2	1	8	

7.2 Koralle in Blöcken (15 Punkte)


		?	?	9	?	?	8	2	7	6	?	
		2	2	2	4	?	?	1	?	?	?	

9	2												5
?	?												?
6	?												?
5	?												?
?	?												?
8	?												?
?	?												?
?	?												?
4	?												?
8	3												?
		?	?	5	?	?	5	?	3	?	?		


7.3 Koralle mit Außengebieten (15 Punkte)



7.4 Summenbild-Rundweg (10 Punkte)



7.5 Summenbild-Rundweg (50 Punkte)



7.6 Dreimal Japanische-Summen-Masyu (15 + 20 + 60 = 95 Punkte)

Teil a mit den Zahlen von 1 bis 5

					?		
			?	1		5	??
			6	?		?	3
			?	?	??	?	?
	7	?	?				
?	?	2	?				
		?	??				
		??	4				
			??				

Teil b mit den Zahlen von 1 bis 6

							?	
			?		?		?	4
			9	??	?	?	?	?
			?	?	?	??	5	?
			?	?	?	?	3	??
			??	7				
			?	18				
			2	10	?			
?	?	?	?	6				
				??				
?	?	11	1					

7.7 Japanische Koralle mit den Zahlen von 1 bis 7 (40 Punkte)

		6			5			
		15	11	3	3	11	17	
		5	5	13	3	15	7	3

2							
7	8						
8							
7	9	1					
3	5						
7	6						
11							

7.8 Japanische Koralle mit den Zahlen von 1 bis 9 (50 Punkte)

						5				
						5				
		17	7	17	8	7	31	1	7	9
		4	3	1	17	11	6	5	2	6

32	1								
4	6	5							
12	12	12							
2	4								
16	19								
8	3								
20	1	15					3		
3	4	20							
5	14	18							

7.9 Rollercoaster mit den Zahlen von 1 bis 6 (30 Punkte)

			7		?	??	9
		15	13	??	?	8	??

9	10						
7	?						
??	9						
7	?	?					
12							

7.10 Rollercoaster mit den Zahlen von 1 bis 9 (70 Punkte)

				12	13			4	
		8	16	6		15	19		
	23	9	9	10		13	11	16	7
	21	17	7	12	19	10	11	6	25

13	10	12	9						
11	18	10							
18	14								
8	8								
10	9	14	11						
12	8	14							
18	5								
14	3	21							
12	22								